



BLAISE PASCAL
PT 2022-2023

Révisions R2

Architecture de la matière

Ressources en ligne

Scanner ou cliquer sur les QR-code pour accéder aux ressources.

- **L'essentiel du cours sous forme de cartes mémo** : cartes réalisées par Christophe Cayssiols.



Cartes utilisables pour ce bloc de révisions : toutes celles du thème « matière ».

- **Qmax : QCM d'applications directes du cours**



Choisir d'abord le mode « j'apprends » puis éventuellement le mode « je révise ». Ces QCM correspondent au programme de PCSI, certaines notions peuvent donc vous être inconnues : me demander en cas de doute.

Thèmes abordés dans ce bloc de révisions : chimie : atomistique, molécules, cristallographie.

Questions de cours

Seuls les étudiants du groupe de TD PT* seront interrogés en colle sur les questions marquées d'une étoile, car elles sont plus techniques et/ou moins essentielles ... mais tous les étudiants sont bien sûr invités à les travailler !

R2.1 - Sur un exemple proposé par l'interrogateur, donner la composition d'un atome à partir de la notation symbolique A_ZX du noyau.

Un exemple pour s'entraîner : le célèbre carbone ${}^{14}_6\text{C}$ dont le noyau compte 6 protons, $14 - 6 = 8$ neutrons, et qui est entouré de 6 électrons.

R2.2 - Donner en justifiant le schéma de Lewis du méthanal CH_2O , sachant que l'atome de carbone est au centre de la molécule.

Donnée : numéros atomiques $Z_{\text{H}} = 1$; $Z_{\text{C}} = 6$ et $Z_{\text{O}} = 8$.

Éléments de réponse :




- ▷ Décompte des électrons de valence :
 - C : $1s^2 2s^2 2p^2$ donc 4 électrons de valence ;
 - H : $1s^1$ donc 1 électron de valence ;
 - O : $1s^2 2s^2 2p^4$ donc 6 électrons de valence ;
 - Total : $4 + 2 \times 1 + 6 = 12$ électrons soit 6 doublets au total.
- ▷ Construction du schéma de Lewis : il y a forcément une liaison C–O, mais il n'est pas évident de savoir à première vue à quel atome les H vont se lier. On commence donc par les placer entre C et O, et on se rend compte que tout autre solution que la double liaison conduit à faire apparaître des charges formelles, ce qui est très défavorable.



R2.3 - Représenter la maille CFC. Déterminer en justifiant les calculs la population et la compacité.





R2.4 - Représenter la maille CFC. Donner les deux types de sites interstitiels, leur localisation et les dénombrer en justifiant. Déterminer l'habitabilité d'un des deux types de site, au choix de l'interrogateur.

Pour s'entraîner

-  Difficulté d'analyse et compréhension, initiative requise ;
-  Difficulté technique et calculatoire ;
-  Exercice important.



Flasher ce code pour accéder au corrigé

Ceinture		Proposition de parcours d'entraînement
	Ceinture blanche	Questions de cours + exercices 1
	Ceinture jaune	Questions de cours + exercices 1 et 2
	Ceinture rouge	Questions de cours (★) + exercices 2 et 3
	Ceinture noire	Questions de cours (★) + exercices 2, 3 et 4

Exercice 1 : Oxyde de baryum

écrit PT 2022 |  1 |  1 | 

-  ▷ Maille CFC ;
- ▷ Sites interstitiels.

Le baryum, en brûlant dans le dioxygène, donne lieu à la formation d'un oxyde de baryum solide BaO dont le paramètre de maille est égal à 0,554 nm. La maille élémentaire est de symétrie cubique. Les ions oxyde O^{2-} forment un réseau cubique à faces centrées (CFC). Le rayon ionique de l'ion oxyde est égal à 0,140 nm.

Q6. Combien existe-t-il de motifs par maille ? Justifier.

Q7. Combien y-a-t-il de sites interstitiels tétraédriques (T) et octaédriques (O) dans la maille CFC formée par les anions ? Justifier.

Q8. Sachant que les cations occupent soit 100% des sites T, soit 100% des sites O, établir quel type de site interstitiel occupent les ions baryum.

Q9. Placer les différents ions dans la maille que l'on dessinera.

Q10. Calculer le rayon ionique de l'ion Ba^{2+} .

Exercice 2 : Oxyde de zirconium solide

écrit PT 2015 | 💡 2 | ✂ 2



- ▷ Mailles CFC;
- ▷ Sites intersticiels.

Les piles à combustible à oxyde solide permettent d'avoir en contact deux phases solide et gazeuse, ce qui supprime les problèmes liés à la gestion de trois phases, notamment la corrosion. Les électrodes sont poreuses de façon à permettre un transport rapide des gaz. Un matériau de choix pour l'électrolyte est l'oxyde de zirconium, appelé zircone, stabilisé à l'yttrium.

La zircone peut être assimilée à un cristal ionique formé de cations Zr^{4+} et d'anions O^{2-} assimilés à des sphères dures de rayons respectifs r^+ et r^- . Les cations sont distribués aux nœuds d'un réseau cubique faces centrées cfc.

- 1 - Représenter la maille conventionnelle d'une structure de cations cfc. Indiquer le nombre de cations par maille.
- 2 - Donner sans démonstration la compacité d'une telle structure dans le cas d'une maille métallique. Commenter.
- 3 - Indiquer où se situent les sites tétraédriques de cette maille. Combien y en a-t-il ?
- 4 - Exprimer le rayon maximal r^- de la particule sphérique pouvant s'insérer dans ces sites sans induire de déformation en fonction de a , le paramètre de la maille et de r^+ .
- 5 - Les anions occupent tous les sites tétraédriques de la maille cfc formée par les cations. Déterminer le nombre d'anions contenus dans cette maille.
- 6 - Indiquer alors la formule de la zircone.
- 7 - Donner la coordinence des anions par rapport aux cations, et des cations par rapport aux anions.
- 8 - Exprimer la masse volumique de la zircone en fonction du paramètre de maille a , de la masse molaire M_{Zr} du zirconium, de la masse molaire M_O de l'oxygène et du nombre d'Avogadro.
- 9 - La formule de l'oxyde d'yttrium est Y_2O_3 . En déduire la charge du cation yttrium.
- 10 - Le dopage consiste à substituer dans la maille élémentaire de l'oxyde de zirconium une fraction molaire x des cations Zr^{4+} par des cations yttrium. Expliquer pourquoi l'électronéutralité de la structure n'est alors pas respectée.
- 11 - Proposer une modification de la formule chimique impliquant le nombre y d'anions O^{2-} présents dans la zircone dopée à l'oxyde d'yttrium, au moyen de x , pour rétablir cette électronéutralité.

Exercice 3 : Autour du soufre et de l'oxygène

adapté écrit PT 2014 | 💡 2 | ✂ 1



- ▷ Configuration électronique;
- ▷ Électronégativité;
- ▷ Schémas de Lewis.

L'oxygène ($Z = 8$) et le soufre ($Z = 16$) sont deux éléments de la famille des chalcogènes : ils présentent donc des propriétés physico-chimiques comparables, en particulier un caractère non métallique et une forte électronégativité.

À l'état de corps simples, on trouve couramment l'oxygène sous forme de dioxygène O_2 ou d'ozone O_3 et le soufre sous forme de cyclo-octasoufre S_8 . Les deux éléments s'assemblent pour former du dioxyde de soufre SO_2 et du trioxyde de soufre SO_3 .

- 1 - Le soufre et l'oxygène font partie de la même famille : comment sont-ils placés dans la classification périodique ?
- 2 - Écrire la configuration électronique à l'état fondamental de l'oxygène O. En déduire son nombre d'électrons de valence.
- 3 - Quel est l'ion monoatomique le plus stable que l'oxygène puisse former ?
- 4 - Proposer une représentation de Lewis pour les molécules et ions ci-dessous. Faisant partie de la troisième période, on rappelle que le soufre peut ne pas suivre la règle de l'octet (hypervalence).
 - ▷ dioxygène O_2 ;
 - ▷ radical anion superoxyde O_2^- ;
 - ▷ ozone O_3 ;
 - ▷ dioxyde de soufre SO_2 ;
 - ▷ trioxyde de soufre SO_3 .

Exercice 4 : Monoxyde de carbone

adapté écrit PT 2013 | 💡 3 | ✂️ 1



- ▷ Configuration électronique ;
- ▷ Électronégativité
- ▷ Schéma de Lewis.

La molécule de monoxyde de carbone est constituée d'un atome d'oxygène ($Z = 8$) et d'un atome de carbone ($Z = 6$).

- 1 - Donner la configuration électronique de l'atome de carbone. Expliquer pourquoi le carbone est tétravalent, c'est-à-dire qu'il forme préférentiellement quatre liaisons covalentes dans les molécules dans lesquelles il est impliqué.
- 2 - Quels sont les deux isotopes du carbone les plus répandus sur Terre ? Écrire leur représentation symbolique.
- 3 - Donner la configuration électronique de l'atome d'oxygène. **En déduire** où il se situe dans la classification périodique (ligne, colonne).
- 4 - Proposer une représentation de Lewis possible pour la molécule de monoxyde de carbone en la justifiant par un décompte d'électrons.
- 5 - Comment évolue l'électronégativité au sein d'une ligne du tableau périodique ? La formule de Lewis proposée par vos soins est-elle alors en accord avec les électronégativités du carbone et de l'oxygène ?